

MATH IS FUN

數學IQ題11月份得獎名單：

<https://drive.google.com/file/d/1VHdQx50neU8X9wpzGZ0fgE9-7fJcNcIv/view?usp=sharing>



一至三年級(十二至一月份)

12-1月數學IQ題：<https://forms.gle/VKFL1gJRP3FmyA8C7>

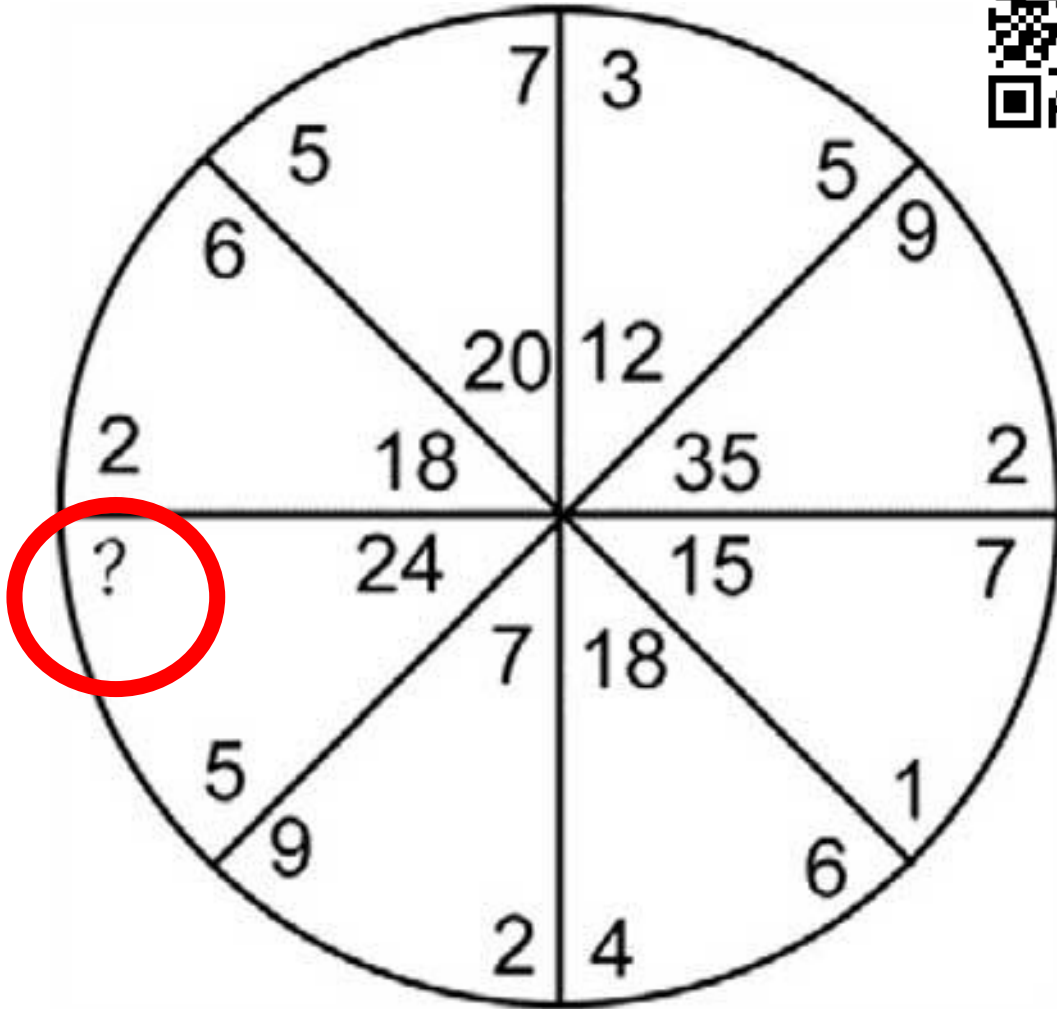
觀察下圖，你能找出答案是多少？



四至六年級(十二至一月份)

12-1 月數學 IQ 題：<https://forms.gle/hyLXTMG3nmw7mWfGA>

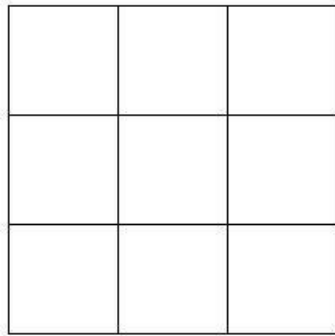
觀察下圖，你能找出答案是多少？





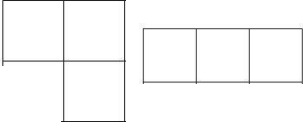

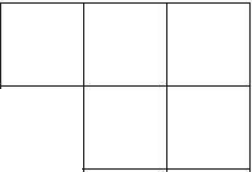
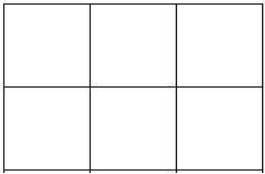
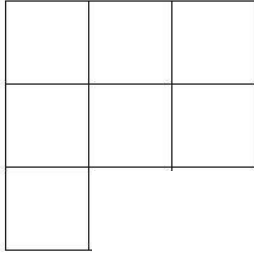

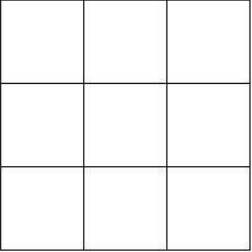
大家也能找出答案嗎？

一至三年級(十一月份)答案

觀察下圖，你能數出多少個正方形？

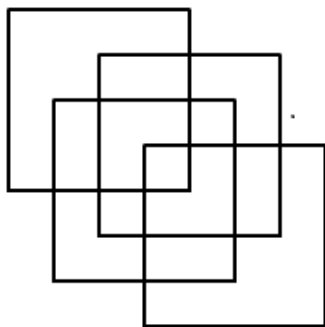


答案是 14

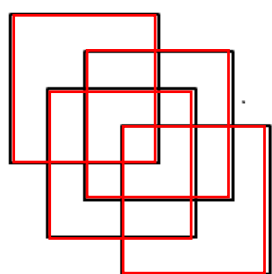
<p>1 個小正方形: 9 個</p> 	<p>2 個小正方形: 0 個 (不是正方形)</p> 	<p>3 個小正方形: 0 個 (不是正方形)</p> 	<p>4 個小正方形: 4 個</p> 
<p>5 個小正方形: 0 個 (不是正方形)</p> 	<p>6 個小正方形: 0 個 (不是正方形)</p> 	<p>7 個小正方形: 0 個 (不是正方形)</p> 	<p>8 個小正方形: 0 個 (不是正方形)</p> 
<p>9 個小正方形: 1 個</p>  <p style="text-align: center;">共有正方形: $9 + 4 + 1 = 14$ 個</p>			

四至六年級(十一月份) 答案

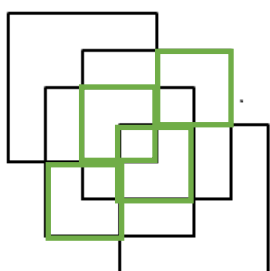
觀察下圖，你能數出多少個正方形？



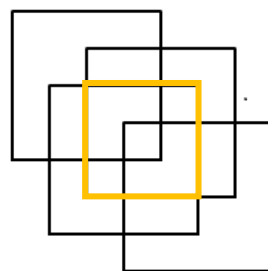
答案是 12



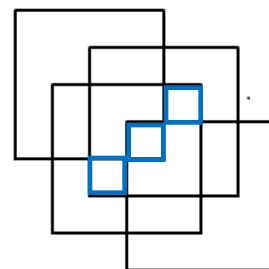
有 4 個



有 4 個



有 1 個



有 3 個

P. 1-3 IQ 題答對的學生：

1A 孫悅晞	1B 周詩敏	1B 蔡旻珈	1B 李浩然	1B 連丞皓
1B 宋家樂	1B 譚浩宏	1B 黃傲嵐	1B 胡有慶	1C 方婧潼
1C 廖泳心	1D 陳哲麟	1D 陳煒櫟	1D 鍾嘉悠	1D 何啓朗
1D 何承謙	1D 洪熙雯	1D 林傲淳	1D 羅智謙	1D 盧晉樂
1D 伍家蒿	1D 鄧筠潼	1D 王希雯	2A 朱皚晴	2A 李梓瑜
2A 曾可晴	2B 鄭凱文	2B 鍾殷信	2B 林姿廷	2B 梁靄琳
2B 劉峻熙	2B 潘諾霖	2B 黃戴愛娜	2C 羅希瑤	2C 李俊鋒
2C 李子軒	2D 李曉晴	2D 吳芷穎	2D 曾芷澄	2D 黃俊諾
3A 程祺	3A 朱樂謙	3A 馮力衡	3A 盧晉晞	3A 勞鉉博

3A 曾俊耀	3A 曾紫東	3A 曾紫柔	3A 謝悅生	3A 黃家健
3B 周思宇	3B 馮雋溢	3B 林子軒	3C 陳心怡	3C 黃紫瑩
3C 盧雅颺	3C 蘇梓匡	3C 王建城	3D 馮瀚漾	3D 伍亮衡
3D 黃絳欣	3E 張浩天	3E 蔡卓軒	3E 何啓樂	3E 何梓柔
3E 徐梓琪	3E 莫忻綿	3E 黃匡勤	4A 蔡泳君	4A 劉灝翹
4A 李卓迪	4B 沈軒妍	4B 蘇明杰	5A 陳塏竣	5A 廖芷晞
5A 余晟涵	5A 余天朗	5B 程雯	5C 王芷恩	5D 陳怡穎
6A 鍾心殷	6A 黃浚滔	6B 黃浚滔	6C 沈祉昀	6C 曾毅詩

P. 4-6 IQ 題答對的學生：

1A 孫悅晞	1C 廖泳心	1D 伍家蒿	2A 朱皚晴	2B 林姿廷
3A 陳逸而	3C 盧雅颺	3D 黃絳欣	3D 伍亮衡	3E 蔡卓軒
4A 朱皓謙	4A 李卓迪	4A 李翹安	5A 池立亨	5A 池立仁
5A 陳品同	5A 廖芷晞	5A 余晟涵	5B 程雯	6A 黎信慧
6A 黃浚滔	6A 黃浚溢			