

MATH IS FUN



一至三年級 (三月份)


3 月數學 IQ 題：

<https://goo.gl/forms/Uqy1Fx8RbGfbFO4b2>



地圖染色問題：

在下圖中，最少要用幾多種顏色為地圖著色，才可使每個相鄰區域的顏色都不一樣？



MATH IS FUN

四至六年級 (三月份)


3 月數學 IQ 題：

<https://goo.gl/forms/cTXQfIYrQ7Y10nG02>



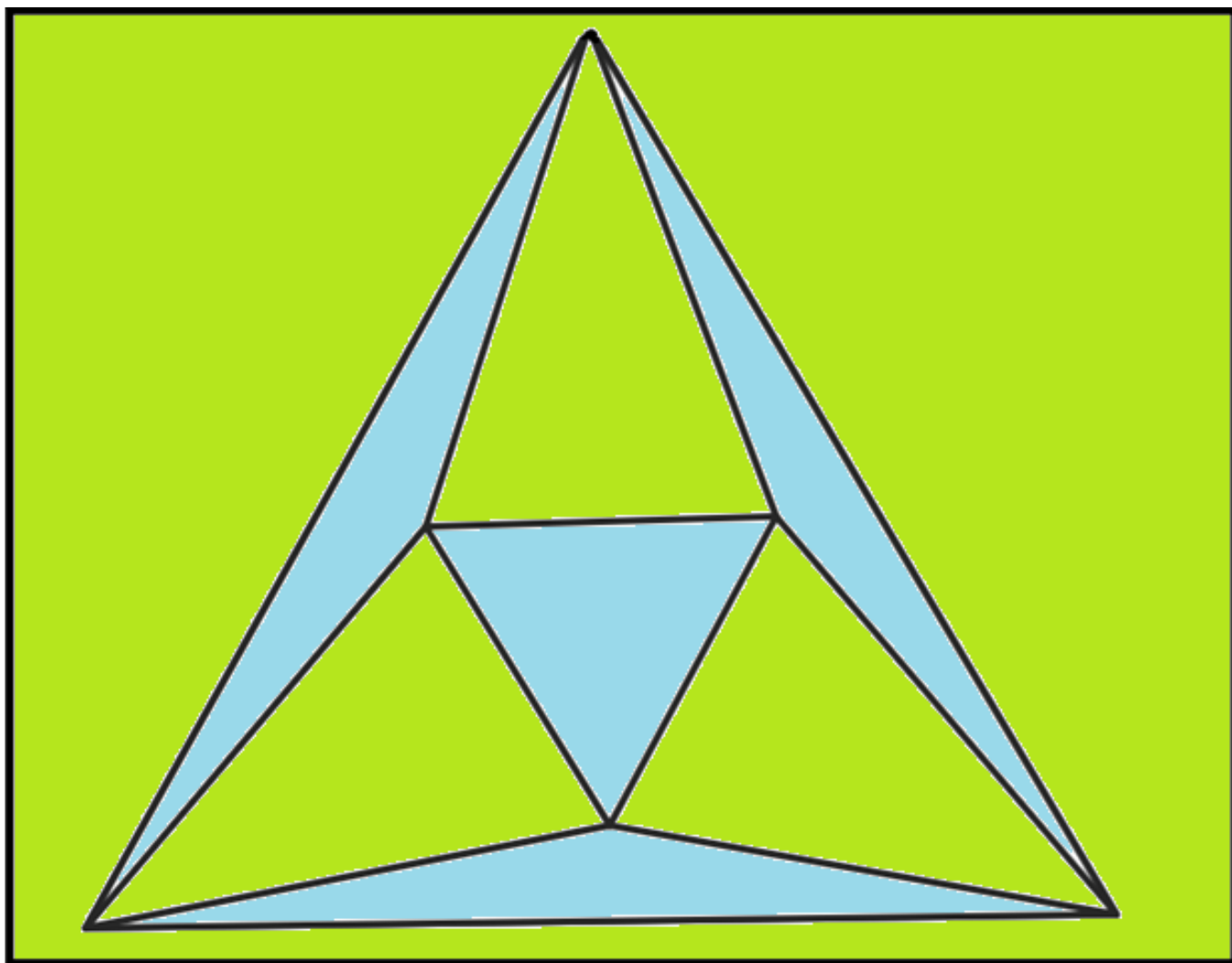
地圖染色問題：

在下圖中，最少要用幾多種顏色為地圖著色，才可使每個相鄰區域的顏色都不一樣？



2月IQ題答案 (P1-3) :

在下圖中，最少要用幾多種顏色為地圖著色，才可使每個相鄰區域的顏色都不一樣？



只需兩種顏色😊

P1-3答對的名單(共15人)：

1A 葉欣婷

1B 蘇明杰

1C 梁卓煊

2A 孫翊浠、曾樂謙、陳睿康

2C 劉曉穎

2D 謝劭沂

3A 黃浚溢、陳晞彤、黎信慧、林樂瑤、黃浚滔、何諾賢

郭凱晴



P4-6答對的名單(共15人)：

3A 黃浚滔、黃浚溢、何諾賢

4A 黎芷晴、葉欣蕎、梁栢燊、陳嘉恩、譚錦鵬、馮冰如

5A 張曉桐、韓善疇、林晞妍、陳愷蕎

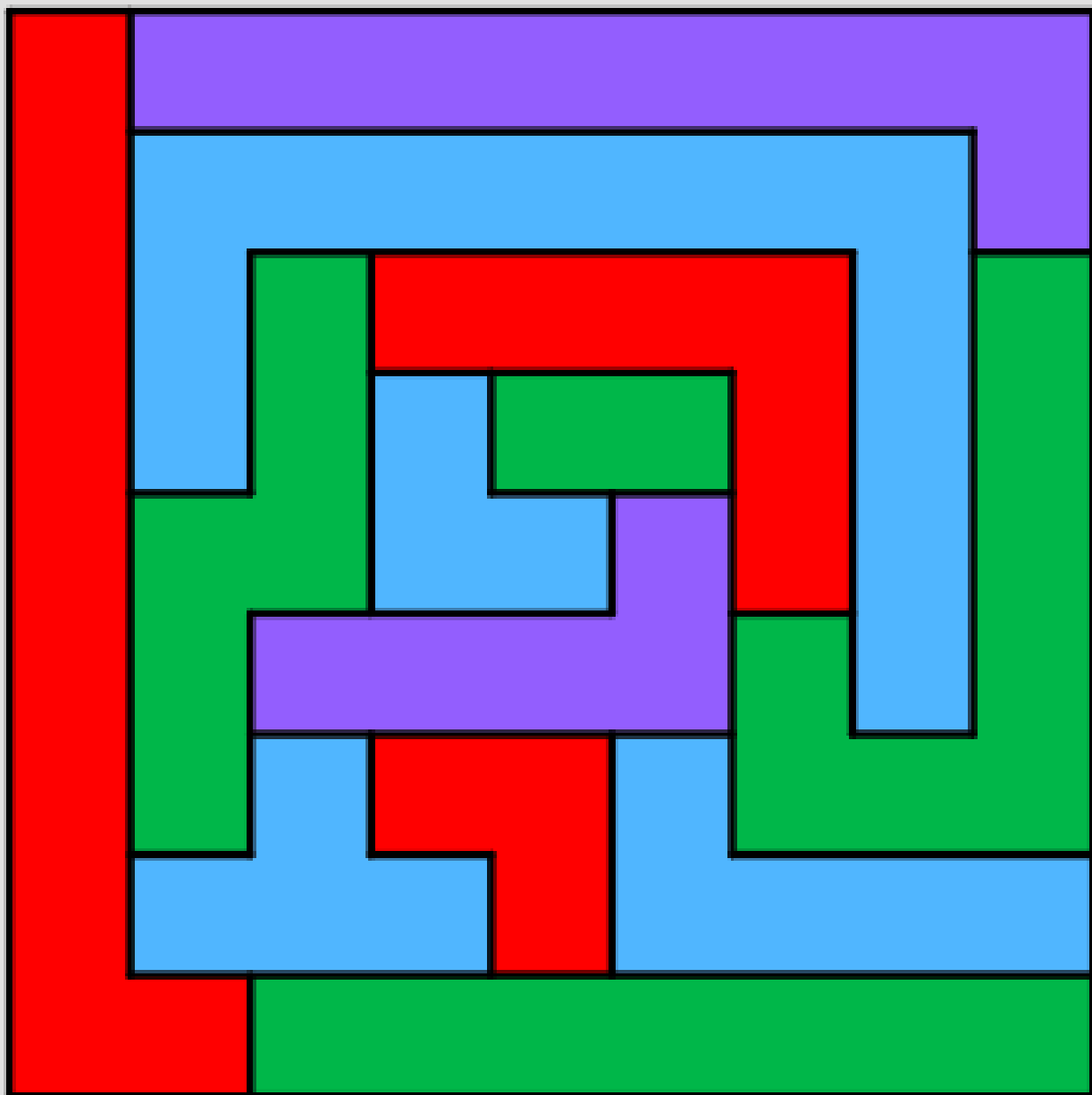
6A 鄧肯

6C 黃凱淇

2月IQ題答案 (P4-6) :

在下圖中，最少要用幾多種顏色為地圖著色，才可使每個相鄰區域的顏色都不一樣？

Well done!



只需四種顏色 😊